



So groß bin ich: _____ cm

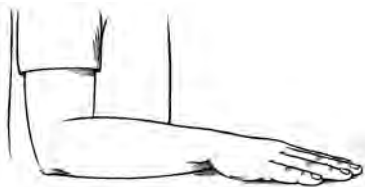
(= _____ m + _____ cm)



So groß bin ich, wenn die Arme oben sind:

_____ cm

(= _____ m + _____ cm)



So lang ist mein Unterarm: _____ cm

(= _____ m + _____ cm)

Male oder schreibe,
was du noch wissen willst:

So lang ist _____ :

_____ cm

(= _____ m + _____ cm)

Male oder schreibe,
was du noch wissen willst:

So lang ist _____ :

_____ cm

(= _____ m + _____ cm)

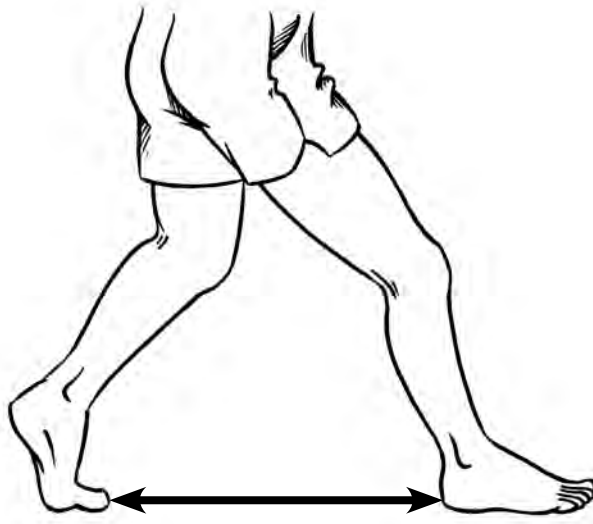




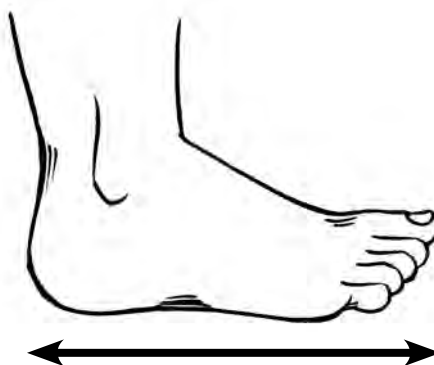
So breit ist meine Handspanne: _____



So lang ist mein großer Schritt: _____



So lang ist mein Fuß: _____



Wege messen

Dies ist 1 cm.



1.  Schätze, wie lang der Weg von Dorf A zu Dorf B ist.

2.  Miss die Länge des Weges nach.



(A)



(B)



Schätzung: _____



Messung: _____

3.  Schätze, wie lang der Weg von Dorf C zu Dorf D ist.

4.  Miss die Länge des Weges nach.



(C)



(D)



Schätzung: _____



Messung: _____

Beispiel:

$$2\ 004\ \text{m} = 2\ \text{km} + 4\ \text{m}$$



- | | m | = | _____ km | + | _____ m |
|----|----------|---|----------|---|---------|
| a) | 1 000 m | = | _____ km | + | _____ m |
| b) | 5 000 m | = | _____ km | + | _____ m |
| c) | 5 050 m | = | _____ km | + | _____ m |
| d) | 5 100 m | = | _____ km | + | _____ m |
| e) | 50 000 m | = | _____ km | + | _____ m |
| f) | 10 000 m | = | _____ km | + | _____ m |
| g) | 1 100 m | = | _____ km | + | _____ m |
| h) | 1 505 m | = | _____ km | + | _____ m |
| i) | 4 300 m | = | _____ km | + | _____ m |
| j) | 2 720 m | = | _____ km | + | _____ m |
| k) | 3 303 m | = | _____ km | + | _____ m |
| l) | 3 003 m | = | _____ km | + | _____ m |
| m) | 300 m | = | _____ km | + | _____ m |
| n) | 33 000 m | = | _____ km | + | _____ m |
| o) | 900 m | = | _____ km | + | _____ m |
| p) | 9000 m | = | _____ km | + | _____ m |

